

# Een baantje bij de krant

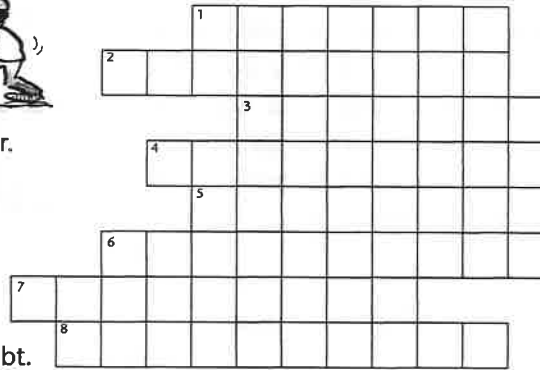
1 ■ Wie bij de krant wil werken, zal eerst allerlei opdrachten moeten verrichten. Zo is het belangrijk om de berichten die onduidelijk doorkomen toch in orde te maken. Lukt het jou om een baantje bij de krant te krijgen?!



- 1. Het kanaal is helemaal recht, maar de rivier erg b.....g.
- 2. Vroeger mocht je zelf weten of je op de brommer een valhelm droeg. Tegenwoordig is dat v.....t.



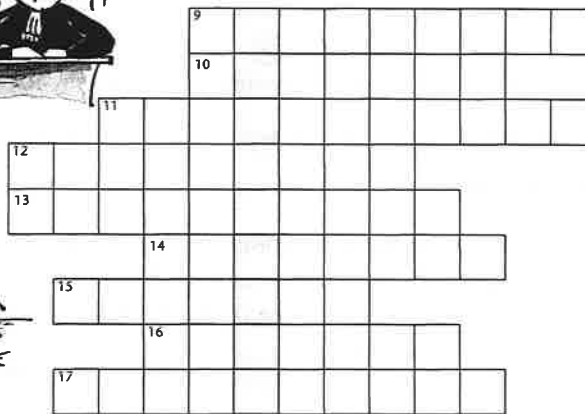
- 3. Hij kon vroeger mooie rijmpjes maken. Nu is hij een beroemde d.....r.
- 4. Er staan veel b.....n over de aardbeving in de krant.
- 5. De president van Amerika is een m.....g man.



- 6. Met de mest maken de boeren hun grond weer v.....r.
- 7. De oplossing van de puzzel is er. Nu moet je a.....n of je prijs hebt.
- 8. Bij de dokter zitten veel grieppatiënten in de w.....r.



- 9. De koorddanser hield zich prima in e.....t.
- 10. Het heeft veel geregend, dus het is overal erg v.....g.
- 11. Het is belangrijk dat de v.....g van je fiets in orde is.



- 12. De verdachte moest voor de r.....k verschijnen.
- 13. Aan de voorkant van de auto zat geen schrammetje, maar aan de a.....t zat een flinke deuk.



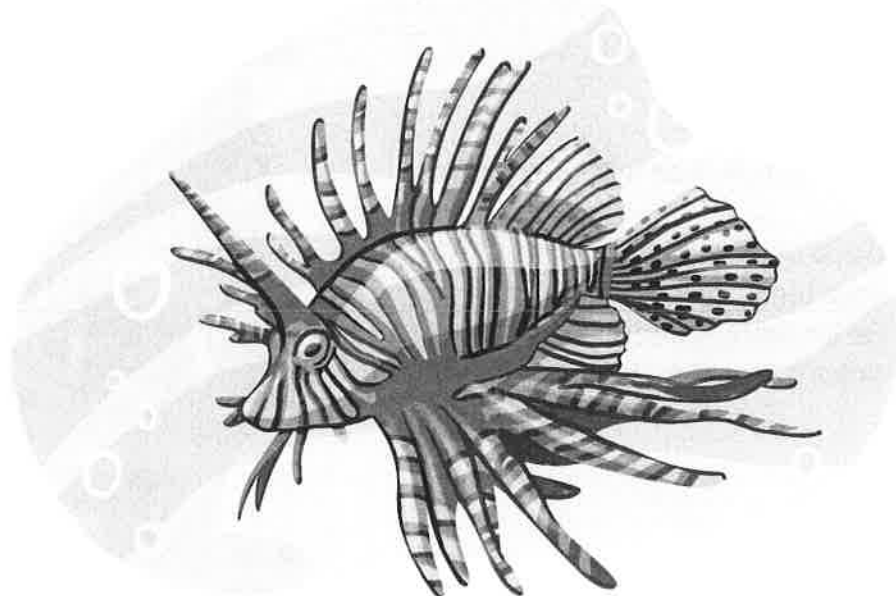
- 14. Het weer was p.....g, dus gingen veel mensen zwemmen.
- 15. Na de wapenstilstand gaan de legers weer met elkaar in g.....t.
- 16. Vroeg in de o.....d lag er nog dauw op de velden.

- 17. Op het vliegveld is een tentoonstelling over de l.....t.

Oplossing: .....  
 Als alles goed is, ben je aangenomen!

## De koraalduivel

- 1 De koraalduivel is een bijzondere vis om te zien. Hij heeft opvallende kleuren en patronen. Op zijn lange rug heeft de vis grote, waaivormige vinnen. De koraalduivel is mooi om te zien, maar vormt een grote bedreiging voor allerlei andere zeedieren.
- 2 Vroeger kwam deze vis alleen voor in de Indische en Grote Oceaan. Tegenwoordig ook in de Caribische en Middellandse Zee. Het is nog niet helemaal zeker hoe de vis in deze wateren terecht is gekomen, maar hier vormt de koraalduivel een groot gevaar.
- 3 De koraalduivel heeft bijna geen natuurlijke vijanden. Bovendien plant hij zich snel voort, waardoor er in een korte tijd veel koraalduivels bijkomen. Ook eet de koraalduivel verschillende vissen, waaronder de kleine visjes die algen van het koraal af eten. Als deze kleine visjes de algen niet meer kunnen opeten, blijven de algen op het koraal zitten. Hierdoor stikt het koraal langzaam en sterft het af. Koraalriffen zijn erg belangrijk voor onze aarde en onze samenleving. Ze leveren voor veel soorten vissen zuurstof, voedsel en een veilige broedplek. Ook beschermen koraalriffen de kusten tegen de invloed van stormen en golven en leveren ze stoffen voor medicijnen.
- 4 Als de koraalduivel zijn gang kan gaan, zal hij al snel de enige vis in de Caribische en Middellandse Zee zijn. Het koraal zou daar over een tijd dan niet meer bestaan. Om die reden mogen mensen de koraalduivel vangen. De vis wordt onder andere verkocht aan restaurants, want je kunt hem eten. De stekels van de koraalduivel bevatten een sterk gif, maar tijdens het bakken verdwijnt dit gif. Er zijn ook mensen die bijvoorbeeld sieraden maken van de huid van de vis.



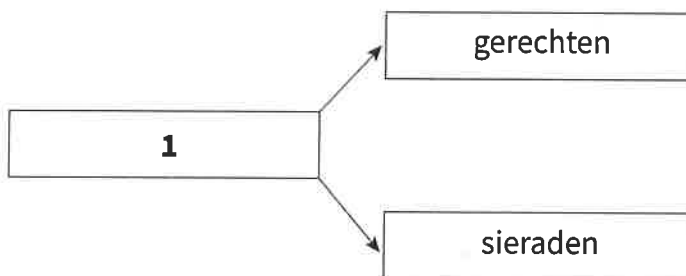
1 Welk kopje past het **best** bij de eerste alinea?

- Een opmerkelijke vis
- Een normale vis
- Een gevaarlijke vis
- Een gemene vis

2 Welk kopje past het **best** bij de derde alinea?

- Koraal
- Voedsel
- Gevaar
- Voortplanting

3 Abdul maakt een schema bij de vierde alinea. Dit schema moet afgemaakt worden.



Wat moet Abdul op plaats 1 zetten?

- mode
- voeding
- giftig
- toepassing

4 Laura maakt een schema bij de tekst. Dit schema is nog niet af.

1	2
<ul style="list-style-type: none"><li>• kleuren</li><li>• patronen</li><li>• lange rug</li><li>• waaivormige vinnen</li></ul>	<ul style="list-style-type: none"><li>• Indische Oceaan</li><li>• Grote Oceaan</li><li>• Caribische Zee</li><li>• Middellandse Zee</li></ul>

Wat moet Laura op plaats 2 zetten?

- oceanen
- leefgebieden
- zeeën
- eigenschappen

**4 Hoeveel zijn er nog over?**

In een dorp staan 50 000 huizen. 23 000 worden er gesloopt.



$50\,000 - 23\,000 =$

$60\,000 - 22\,500 =$

$40\,000 - 17\,000 =$

$50\,000 - 15\,500 =$

$60\,000 - 32\,000 =$


$40\,000 - 37\,500 =$

$30\,000 - 15\,000 =$

$50\,000 - 26\,500 =$

$50\,000 - 18\,000 =$

$60\,000 - 43\,500 =$

**5 Hoeveel kilometer zijn de delen?**

$\frac{2}{5}$  deel is gekleurd.  $\frac{2}{5}$  deel is ... km.

Welk deel is over?

Hoeveel kilometer is dat?



$\frac{3}{4}$  deel is gekleurd.  $\frac{3}{4}$  deel is ... km.

Welk deel is over?

Hoeveel kilometer is dat?



$\frac{5}{8}$  deel is gekleurd.  $\frac{5}{8}$  deel is ... km.

Welk deel is over?

Hoeveel kilometer is dat?



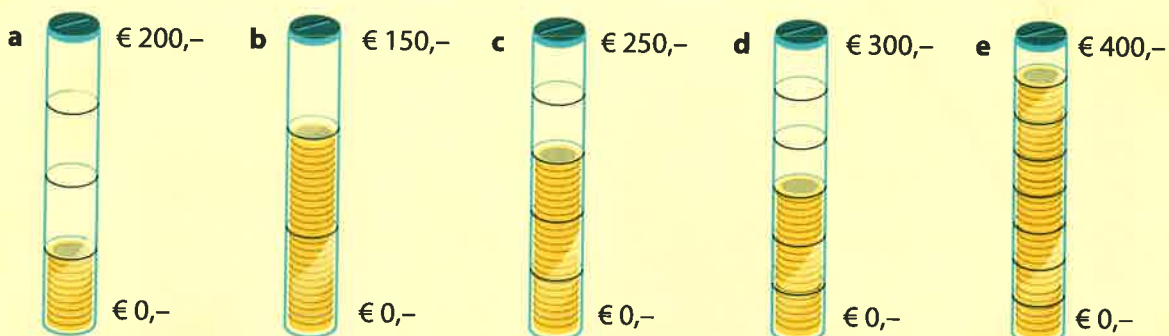
$\frac{5}{6}$  deel is gekleurd.  $\frac{5}{6}$  deel is ... km.

Welk deel is over?

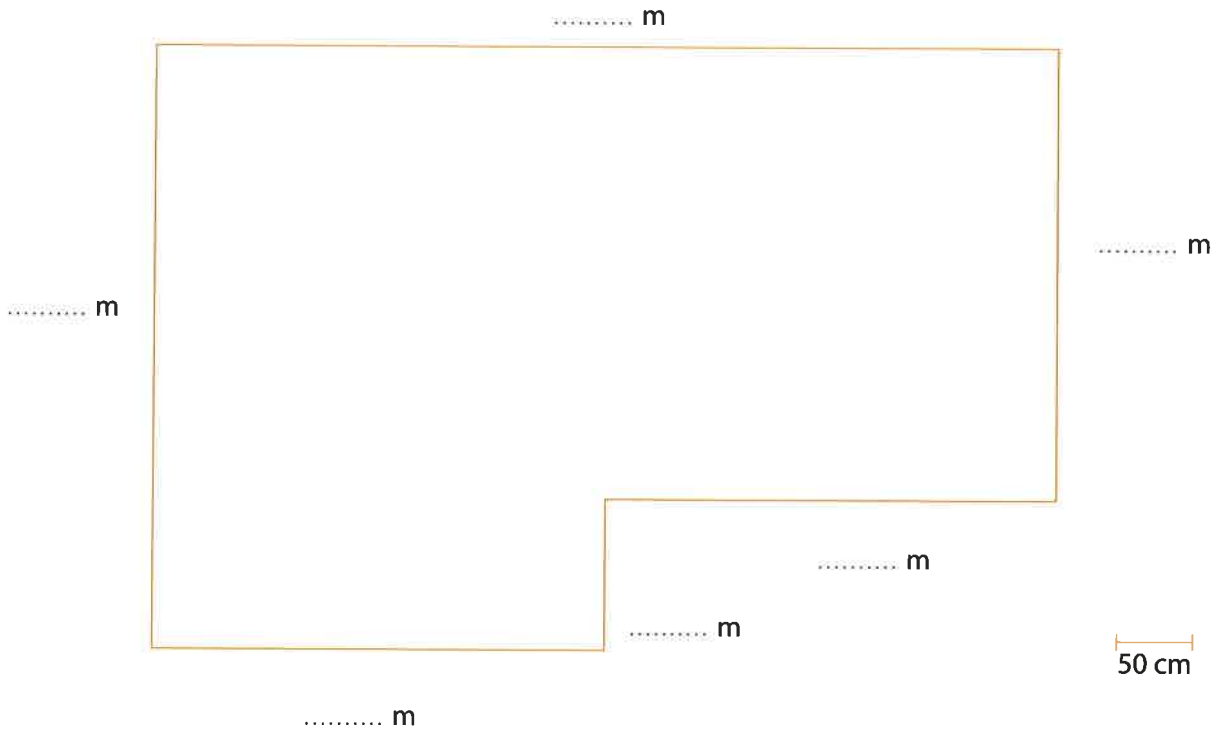
Hoeveel kilometer is dat?

**6 Welk deel is gevuld? Hoeveel euro is dat?**

Schrijf het zo op: a - ... deel, € ...



1 Tegels in de woonkamer.



- a Schrijf de afmetingen van de woonkamer in de tekening.
- b Wat is de oppervlakte van de woonkamer? .....



- c Hier zie je welke tegels de familie Leenders kiest voor de woonkamer. Wat is de oppervlakte van 10 vloertegels? .....
- d Hoeveel tegels moet de familie bestellen voor de woonkamer? .....
- e Hoeveel kosten de tegels voor de woonkamer? .....
- f Teken de tegels in de plattegrond.

**BouwPLUS**

**nu:** alle vloertegels  
4 halen  
3 betalen!

**Bouwshop**

**nu:** 3 m<sup>2</sup> vloertegels  
voor de prijs  
van 2 m<sup>2</sup>

- g De familie wacht totdat de tegels in de aanbieding komen. Bij 2 bouwmarkten komen ze in de aanbieding. Welke bouwmarkt is het goedkoopste voor de familie Leenders? .....
- h Wat is het prijsverschil tussen het kopen van de tegels bij BouwPLUS en de Bouwshop? .....