

Moelijke essen

1 ■ In elke rij staan 7 woorden fout geschreven.
Kleur die en schrijf ze er goed achter.

z acties	f bezems
g kilos	<u>kilo's</u>	e pianos
s tafels	h dictees
e omas	u horloges
w televisies	d paadjes
e etalage's	k families
n diplomatas	l dynamos
e paginas	e iglos
d cijfers	f pyjamas
n luier's	o dias
k fotos	u eskimos
p hempjes	p garages
f bezems	t lekkage's



Zet de letters die voor de woorden staan in de balk. Je weet dan of je alles goed hebt.

g																			
---	--	--	--	--	--	--	--	--	--	--	--	--	--	--	--	--	--	--	--

2 ■ Schrijf de dik gedrukte woorden goed onder het verhaal.

In Harrys¹ winkel zijn **dynamos**² te koop, zowel **smiddags**³ als **savonds**⁴. Hij werkt alleen maar **swinters**⁵ en is **szaterdag**⁶ en **szondags**⁷ gesloten. **Szomers**⁸ maakt hij zijn geld op in **Annas**⁹ hotel op de Veluwe. Hij neemt daar **fotos**¹⁰ en **dias**¹¹ van de mooie natuur met verschillende **cameras**¹². Alleen **smaandags**¹³ en **swoensdags**¹⁴ neemt hij dan even een kijkje in zijn winkel. Wat een leventje, hè!

1.
2.
3.
4.
5.
6.
7.
8.
9.



10.
11.
12.
13.
14.

1 Hardwerkende dierenvrienden gezocht!

- 2 Kinderboerderij Beestenboel in Apeldoorn zoekt nu vrijwilligers! Ben jij een echte
3 dierenvriend en heb jij in het weekend wat uurtjes tijd? Dan zijn wij op zoek naar
4 jou! We hebben hulp nodig bij het voeren van alle dieren, het uitmesten van alle
5 stallen en het poetsen van ons everzwijn Toet.
- 6 Lijkt het jou leuk om ons te helpen en heb je in het weekend tijd? Stuur dan een
7 e-mail naar ons. Vermeld in het bericht jouw naam en leeftijd en hoeveel uren je
8 beschikbaar bent.

1 Lees: Stuur dan ... bent. (r. 6-8)

Wat is de schrijver van deze tekst vergeten te vermelden?

- Het adres waar je de mail naartoe moet sturen.
- De plaats waar de kinderboerderij zich bevindt.
- Wat je taken zijn op de kinderboerderij.
- Wat je moet vermelden in je e-mailbericht.

2 Welk woord past het **best** bij deze tekst?


- beschikbaarheid
- vrijwilligerswerk
- voeren
- dierenvriend

3 Wat is het doel van de schrijver met deze tekst?

- een instructie geven
- een oproep doen
- een mening geven
- reclame maken

4 Welke titel kun je deze tekst ook geven?

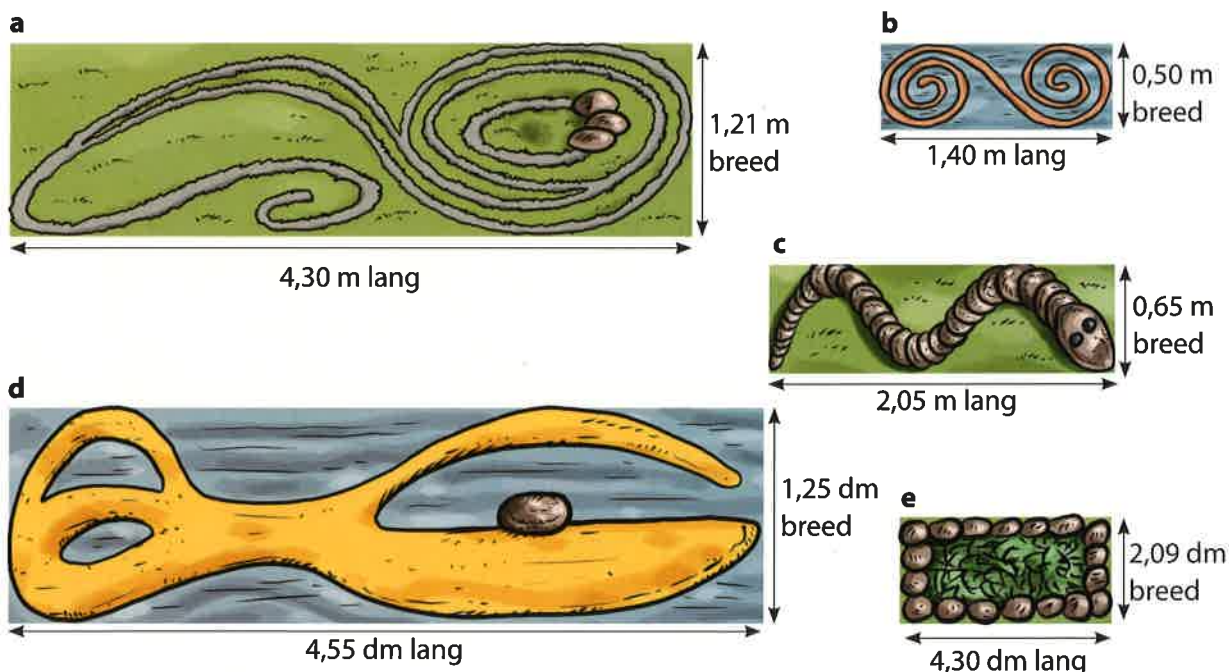
- Goed bijverdienen?
- Vrije tijd te kort?
- De kinderboerderij Beestenboel
- Vrijwilligers gezocht



1 Wat zijn de afmetingen?

Schrijf op hoeveel meter, decimeter en centimeter het is.

Schrijf het zo op: a - lengte: 4 m en 3 dm, breedte: ... m ... dm ... cm



2 Welk getal ligt in het midden?

0	500 000	1 000 000
0 - ... - 500 000	280 000 - ... - 320 000	525 525 - ... - 625 525
500 000 - ... - 1 000 000	875 000 - ... - 925 000	120 300 - ... - 122 300
150 000 - ... - 450 000	645 900 - ... - 946 100	750 000 - ... - 820 000
200 000 - ... - 400 000	756 410 - ... - 757 010	0 - ... - 650 000
700 000 - ... - 1 000 000	545 000 - ... - 555 000	300 300 - ... - 300 600

3 Neem over en reken uit.

€ 9,68	€ 8,71	€ 9,05	€ 2,80	€ 65,03
€ 5,36	€ 9,36	€ 7,68	€ 7,45	€ 6,43
€ 12,22 +	€ 2,14 +	€ 34,67 +	€ 35,95 +	€ 8,39 +
€ 69,69	€ 78,70	€ 79,05	€ 62,80	€ 96,45
€ 30,37 -	€ 39,36 -	€ 47,88 -	€ 17,49 -	€ 58,37 -

2 Hoeveel is elke letter waard?

$A + B = 30$

$C + D = 7$

$E - F = 4$

$G \times H = 27$

$I : J = 9$

$A - B = 20$

$C = D + 1$

$F + F = E - 1$

$G : H = 3$

$J : 4 = 2$

$A = \dots\dots\dots$

$C = \dots\dots\dots$

$E = \dots\dots\dots$

$G = \dots\dots\dots$

$I = \dots\dots\dots$

$B = \dots\dots\dots$

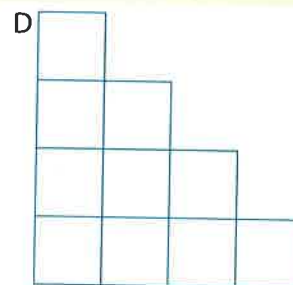
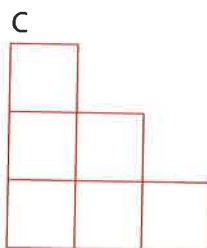
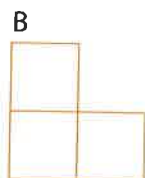

$D = \dots\dots\dots$

$F = \dots\dots\dots$

$H = \dots\dots\dots$

$J = \dots\dots\dots$

3 Een groeiende trap.



a Noteer de oppervlakte en omtrek van de voorkant van de 4 kunstwerken.

trap A oppervlakte:1..... cm² omtrek:4..... cm

trap B oppervlakte:3..... cm² omtrek:8..... cm

trap C oppervlakte: cm² omtrek: cm

trap D oppervlakte: cm² omtrek: cm

b Voor iedere letter van het alfabet wordt een kunsttrap gemaakt. Hoe groot zijn de volgende kunsttrappen?

trap M oppervlakte: cm² omtrek: cm


trap Z oppervlakte: cm² omtrek: cm

c Hoe heb je voor de bovenstaande kunsttrappen de oppervlakte en omtrek uitgerekend?

.....

.....

4 Zet de geldzakken van licht naar zwaar.



van licht naar zwaar: - - -

van licht naar zwaar: - - -